

### Ôn tập hè Toán lớp 2

#### Bài 1: Tìm X:

A.  $X + X + X + X - 12 = 20$

B.  $2 \times X + X = 4 \times 6 + 3$

C.  $X : 5 - 12 = 13$

.....

.....

.....

.....

.....

.....

.....

.....

.....

.....

.....

.....

.....

.....

.....

D.  $X + 19 - 2 = 32$

E.  $5 \times X - X = 24$

F.  $47 - X = 19 + 2$

.....

.....

.....

.....

.....

.....

.....

.....

.....

.....

.....

.....

.....

.....

.....

G.  $312 - X = 5 \times 9$

H.  $X + X + X + X + X = 20$

I.  $X + 2 \times X = 18 + 3$

.....

.....

.....

.....

.....

.....

.....

.....

.....

.....

.....

.....

.....

.....

.....

K.  $3 \times X + 29 = 5 \times 10$

.....  
.....  
.....  
.....

L.  $2 \times X - 10 = 6$

.....  
.....  
.....  
.....

M.  $232 - X \times 2 = 120$

.....  
.....  
.....  
.....

N.  $X \times 3 - 12 = 15$


.....  
.....  
.....  
.....  
.....

O.  $111 - X = 46 + 12$

.....  
.....  
.....  
.....  
.....

P.  $X : 3 - 3 = 4$

.....  
.....  
.....  
.....  
.....



Q.  $347 - X = 156 + 13$

.....  
.....  
.....  
.....  
.....

R.  $X : 4 - 5 = 7$

.....  
.....  
.....  
.....  
.....

S.  $2 \times X + X = 30 : 1$

.....  
.....  
.....  
.....  
.....

**Bài 2: Viết số thích hợp vào dấu chấm.**

2cm = .....mm

3dm 2mm = .....mm

12m = .....cm

$2\text{cm } 3\text{mm} = \dots\dots\text{mm}$

$2\text{m}3\text{dm} = \dots\dots\text{cm}$

$13 \text{ dm}2\text{cm} = \dots\dots\text{mm}$

$12\text{dm } 4\text{cm} = \dots\dots\text{cm}$

$1\text{km} = \dots\dots\text{m}$

$89\text{m}110\text{dm} = \dots\dots\text{dm}$

**Bài 3: Tính**

$10 \text{ kg} : 1 \times 0 = \dots\dots\dots$

$4 \text{ m} \times 2 : 1 = \dots\dots\dots$

$= \dots\dots\dots$

$= \dots\dots\dots$

$= \dots\dots\dots$

$= \dots\dots\dots$

$0\text{m} \times 4 + 13 \text{ m} = \dots\dots\dots$

$5 \text{ kg} \times 3 + 59\text{kg} = \dots\dots\dots$

$= \dots\dots\dots$

$= \dots\dots\dots$

$= \dots\dots\dots$

$= \dots\dots\dots$

$38\text{m} - 25 \text{ m} + 28\text{m} = \dots\dots\dots$

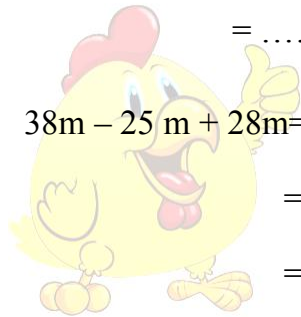
$10 \text{ m} : 1 \times 5 = \dots\dots\dots$

$= \dots\dots\dots$

$= \dots\dots\dots$

$= \dots\dots\dots$

$= \dots\dots\dots$

**Bài 4:**

a) Điền dấu +; - vào ô vuông (2 điểm)

$90 \square 80 \square 30 \square 40 \square 20 = 100$

$16 \square 24 \square 20 = 20$

b) Tính nhanh

$11 + 28 + 24 + 16 + 12 + 9 = \dots\dots\dots$

$= \dots\dots\dots$

$= \dots\dots\dots$



=.....

$27 + 45 - 27 - 45 =$ .....

=.....

=.....

**Bài 5:**

a. Tìm các số có hai chữ số sao cho tích của hai chữ số đó là 9

.....

b. Tìm các số có hai chữ số sao cho tổng của hai chữ số đó là 12

.....

c. Tìm 1 số biết rằng số đó cộng với 28 rồi cộng với 17 thì được kết quả là 82

.....  
.....  
.....  
.....

**Bài 6:** Viết tiếp số trong dãy số cần tìm

a. 101; 104;.....;110; 113;.....; 119

b. 211; 213;.....;217;.....;221

c. 240; 242;.....;246; 248

d. 311; 313; 315;.....;.....

e. 0; 1; 2; 3; 6; 12; .....;.....;.....

**Bài 7:** Mỗi thỏ có 2 tai và 4 chân. Hỏi 10 thỏ sẽ có tất cả bao nhiêu tai và bao nhiêu chân?

..... tai                      .....chân



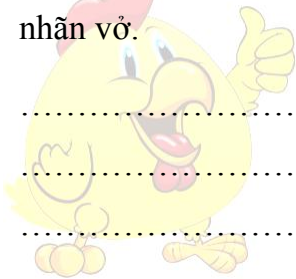
**Bài 8:** Một lớp có số bạn trai là 30 em, số bạn gái kém số bạn trai là 9 em. Hỏi số bạn gái là bao nhiêu em?

.....  
.....  
.....

**Bài 9:** Một lớp học A có 55 bạn học sinh. Lớp học B ít hơn lớp học A là 15 bạn. Hỏi lớp học B có bao nhiêu bạn học sinh?

.....  
.....  
.....

**Bài 10:** Lam có 340 cái nhãn vở. Lam nhiều hơn Bình 157 cái. Hỏi Bình có bao nhiêu cái nhãn vở.



**Bài 11:** Mẹ có 30 cái kẹo, mẹ chia đều cho 3 anh em Bình. Hỏi mỗi anh em Bình có bao nhiêu chiếc kẹo?

.....  
.....  
.....

**Bài 12:** Trâu nặng 134 kg. Bò nặng hơn trâu 138 kg. Hỏi con bò nặng bao nhiêu ki-lô-gam?

.....  
.....  
.....



**Bài 13: Tính.**

$40 : 4 : 5 =$

$4 \times 7 : 2 =$

$50 : 5 \times 4 =$

$4 \times 7 : 2 =$

.....  
.....  
.....

$4 \times 8 - 23 =$

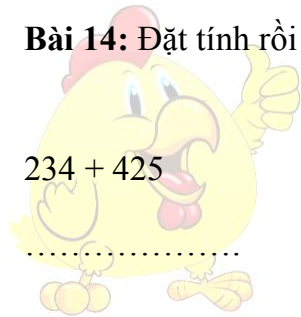
$27 : 3 + 39 =$

$4 \times 9 + 245 =$

$7 \times 5 - 15 =$

.....  
.....  
.....

**Bài 14: Đặt tính rồi tính:**



$234 + 425$

$368 + 357$

$446 + 314$

$511 + 115$

.....  
.....  
.....

$753 - 349$

$458 - 245$

$1000 - 455$

$246 - 119$

.....  
.....  
.....

$783 - 349$

$247 + 256$

$147 + 579$

$991 - 347$



.....  
.....  
.....

**Bài 15. Tìm x:**

$18 < x + 4 < 20$

$110 < x + 30 < 112$

$100 < x - 5 < 102$

.....  
.....  
.....

**Câu 16:** Bạn Hà có số kẹo nhiều hơn 7 kẹo nhưng ít hơn 9 kẹo. Hỏi bạn Hà có mấy viên kẹo?

**Câu 17:** Em hãy tính hiệu của số nhỏ nhất có hai chữ số và số lớn nhất có một chữ số.

**Bài 18:** Khối lớp Hai có 94 học sinh. Khối lớp Ba có ít hơn khối lớp Hai 16 học sinh. Hỏi khối lớp Ba có bao nhiêu học sinh?

**Bài 19:**

- Viết số lớn nhất có ba chữ số
- Viết số bé nhất có ba chữ số.

**Bài 20:** Tính chu vi hình tam giác ABC có độ dài các cạnh là 2dm, 17 cm, 3dm2cm.

Tham khảo: <https://vndoc.com/toan-lop-2>